

NELA BURCEA
CĂTĂLINA ȘERBAN

**Fișe cu suport cartografic
pentru portofoliu**

GEOGRAFIE – învățare și evaluare
clasa a XII-a

**Europa • România
• Uniunea Europeană**



EDITURA CD PRESS
www.cdpress.ro

CUPRINS

FIȘA 1.	Spațiul european.....	4
FIȘA 2.	Unități majore de relief din Europa. Principalele lanțuri montane	5
FIȘA 3.	Unități majore de relief din România. Principalele subdiviziuni	6
FIȘA 4.	Hidrografie. Principalele râuri/fluviu de pe teritoriul Europei.....	7
FIȘA 5.	Hidrografie. Principalele râuri de pe teritoriul României	8
FIȘA 6.	Harta politică a Europei	9
FIȘA 7.	Orașele din România cu populație de peste 100.000 locuitori	10
FIȘA 8.	Principalele orașe din România, reședințele de județ	11
FIȘA 9.	Bulgaria – țară vecină a României.....	12
FIȘA 10.	Republica Moldova – țară vecină a României	13
FIȘA 11.	Serbia – țară vecină a României	14
FIȘA 12.	Ucraina – țară vecină a României	15
FIȘA 13.	Ungaria – țară vecină a României	16
FIȘA 14.	Formarea Uniunii Europene. Evoluția integrării	17
FIȘA 15.	Franța – stat al Uniunii Europene	18
FIȘA 16.	Germania – stat al Uniunii Europene.....	19
FIȘA 17.	Regatul Unit al Marii Britanii și al Irlandei de Nord – stat al Uniunii Europene... 	20
FIȘA 18.	Italia – stat al Uniunii Europene.....	21
FIȘA 19.	Spania și Portugalia – state ale Uniunii Europene.....	22
FIȘA 20.	Grecia – stat al Uniunii Europene	23
FIȘA 21.	Austria – stat al Uniunii Europene.....	24

SPAȚIUL EUROPEAN

1. Analizați cu atenție schița cartografică de mai jos. Scrieți, pe liniile punctate, denumirile punctelor extreme ale continentului Europa: Capul Nord, Capul Punta Marroqui, Capul Roca și Munții Ural.



2a. Scrieți, în dreptul literelor din tabel, numele insulelor/arhipelagurilor marcate, pe harta de mai sus, cu literele:

Litera de pe hartă	Insula/arhipelagul
A	
B	
C	
D	
E	
F	
G	
H	
I	
J	
K	

2b. Scrieți denumirile peninsulelor marcate, pe harta de mai sus, cu numerele:

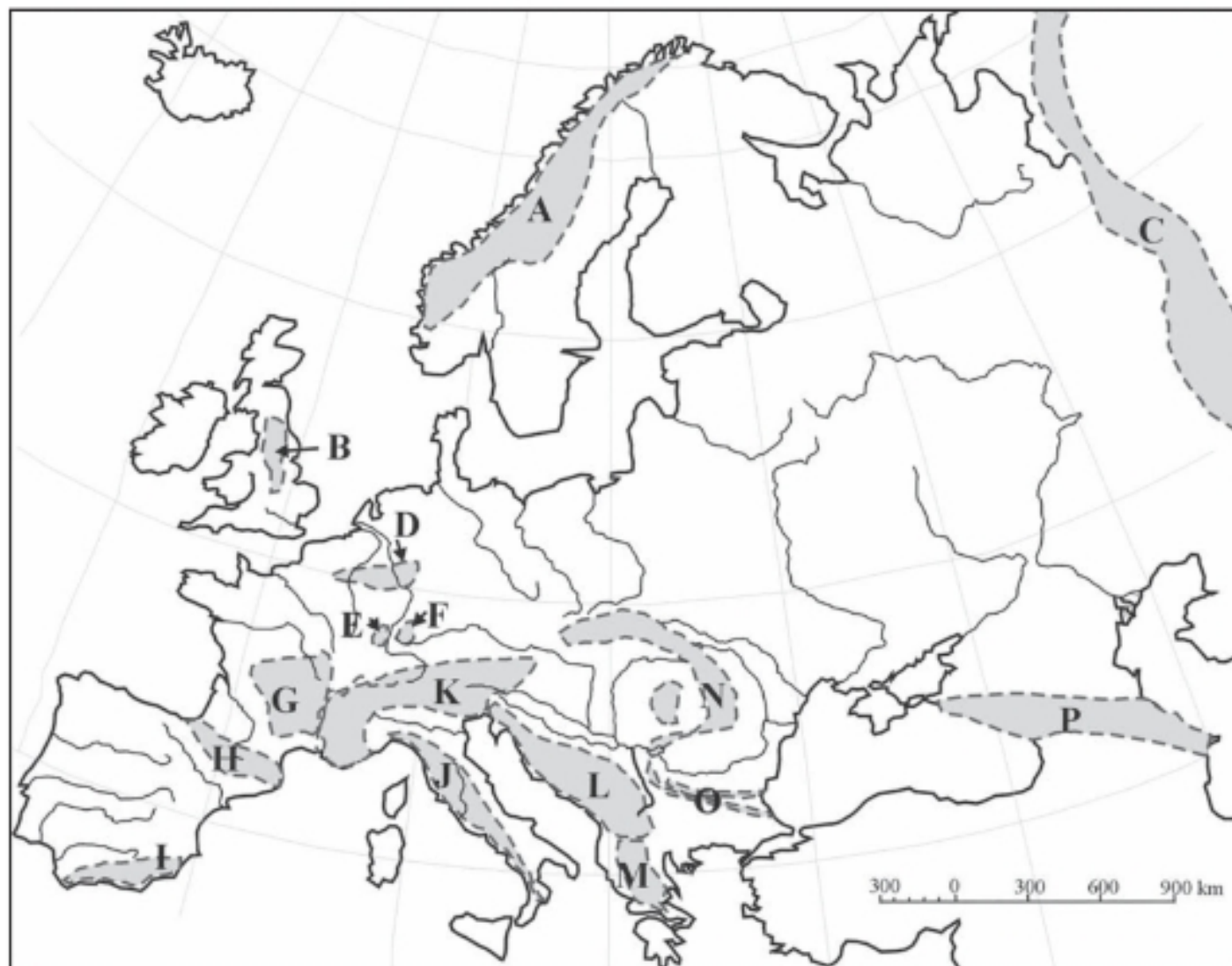
Numărul de pe hartă	Peninsula
1	
2	
3	
4	
5	
6	
7	

3. Colorați spațiile corespunzătoare mărilor.

4. Scrieți denumirile mărilor pe liniile punctate.

UNITĂȚI MAJORE DE RELIEF DIN EUROPA. PRINCIPALELE LANȚURI MONTANE

1. Utilizând informațiile de pe harta de mai jos, scrieți în tabel denumirile lanțurilor montane:



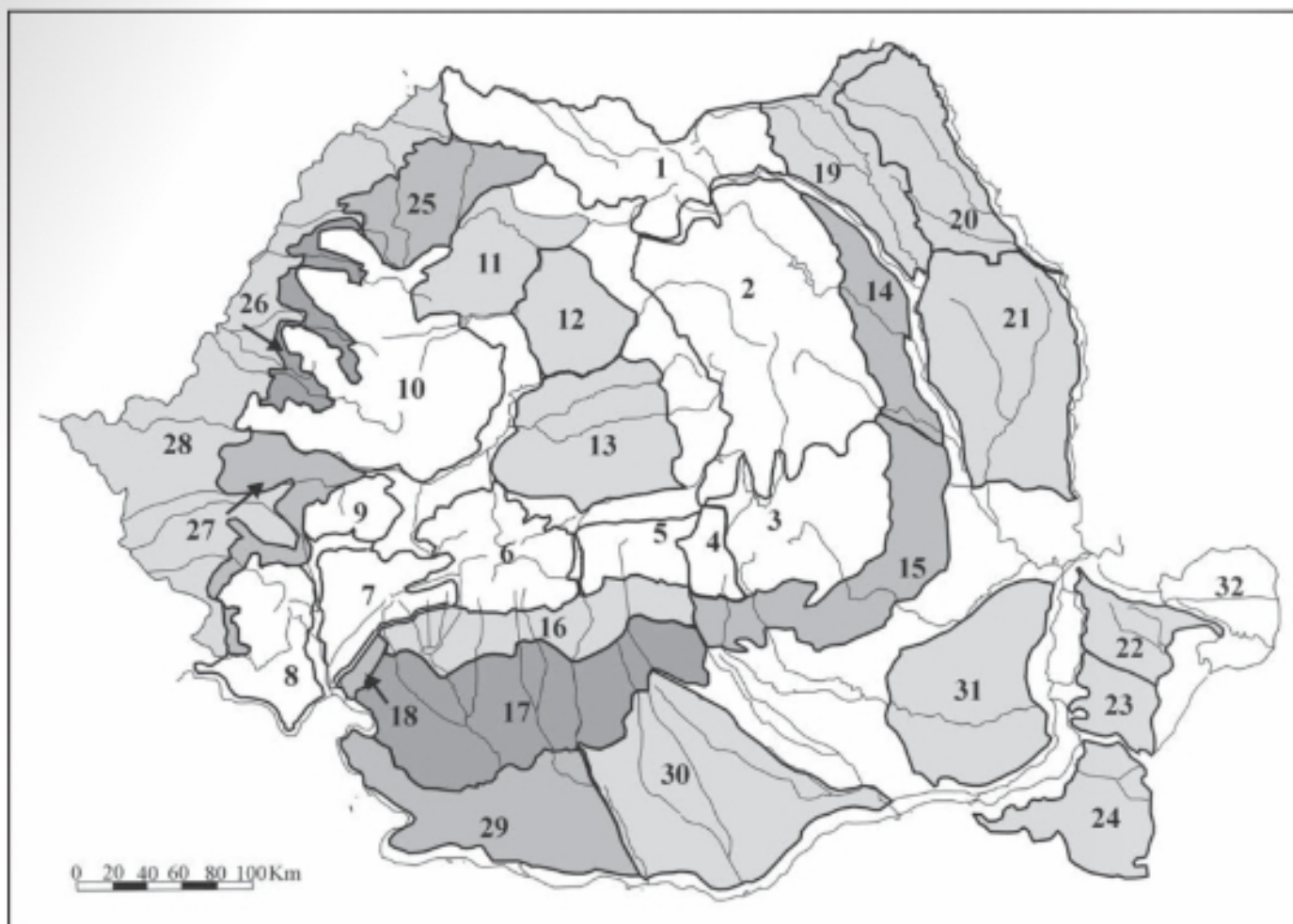
Litera de pe hartă	Numele lanțului montan	Vârful cel mai înalt	Altitudinea maximă
A		Vf. Glittertind	2469 m
B		Vf. Cross Fell	893 m
C		Vf. Narodnaia	1894 m
H		Pic d'Aneto	3404 m
I		Vf. Mulhacen	3480 m
J		Grand Sasso d'Italia	2914 m
K		Vf. Mont Blanc	4807 m
N		Vf. Gerlachovka	2655 m
O		Vf. Botev	2376 m
P		Vf. Elbrus	5642 m

2. Scrieți, în spațiile libere, denumirea masivelor/lanțurilor montane marcate pe hartă cu literele:

D- , E- , F- , G- , L- și
M-

UNITĂȚI MAJORE DE RELIEF DIN ROMÂNIA. PRINCIPALELE SUBDIVIZIUNI

1. Pe harta de mai jos sunt marcate cu numere de la 1 la 32 unități/subunități de relief din România.

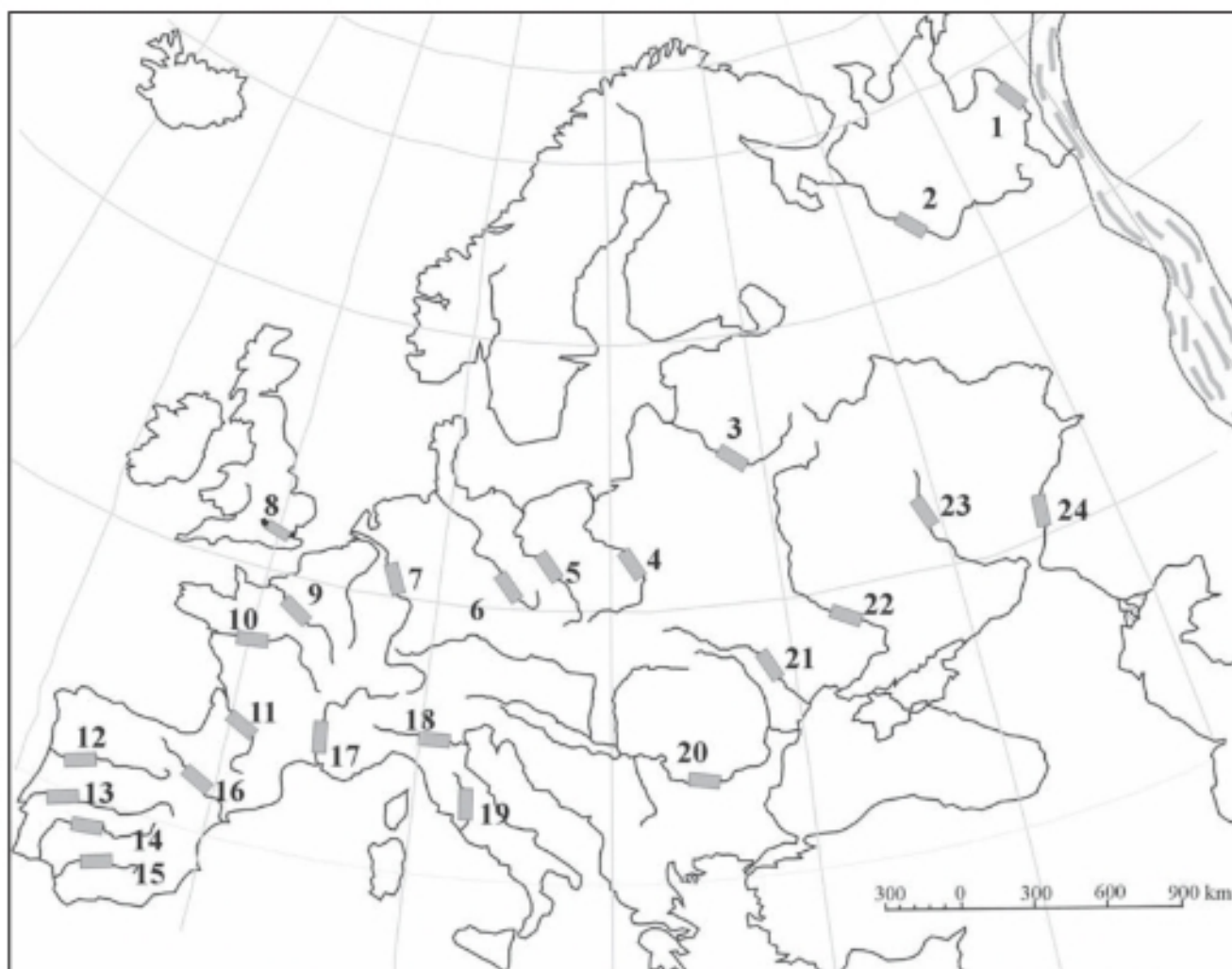


Analizați cu atenție harta de mai sus. Scrieți în dreptul numerelor din tabel numele unităților/subunităților de relief marcate pe hartă cu numere.

Unitatea de relief	Subdiviziunea	Subdiviziunea	Subdiviziunea	Subdiviziunea
Carpații Orientali	1	2-	3-	
Carpații Meridionali	4-	5-	6-	7-
Carpații Occidentali	8-	9-	10	
Podișul Transilvaniei	11-	12-	13-	
Subcarpații	14-	15-	16-	
Podișul			17	
Podișul			18	
Podișul Moldovei	19-	20-	21-	
Podișul Dobrogei	22-	23-	24-	
Dealurile de Vest	25-	26-	27-	
Câmpia			28	
Câmpia Română	29-	30-	31-	
.....			32	

HIDROGRAFIE. PRINCIPALELE RÂURI/FLUVII DE PE TERITORIUL EUROPEI

1. Pe harta de mai jos sunt marcate râuri/fluviu, cu numere de la 1 la 24.



Scrieți, în spațiile libere de mai jos, denumirile corespunzătoare râurilor/fluviilor:

- tributare Oceanului Arctic, prin:

Marea Barents – 1,

Marea Albă – 2,

- tributare Oceanului Atlantic, prin:

Golful Riga – 3,

Marea Baltică – 4,

și 5,

Marea Nordului 6,

7-....., 8-.....

Marea Măneicii – 9,

- care străbat Franța și se varsă direct în Oceanul

Atlantic: 10-..... și 11-.....

- care străbat Peninsula Iberică și se varsă în Oceanul Atlantic:

12-....., 13-.....,

14-....., 15-.....

Marea Mediterană: 16-.....,

17-....., 18-.....

și 19-.....

- râuri/fluviu care se varsă în Marea Neagră:

20-....., 21-.....,

22-....., 23-.....

- fluviul care se varsă în Marea Caspică

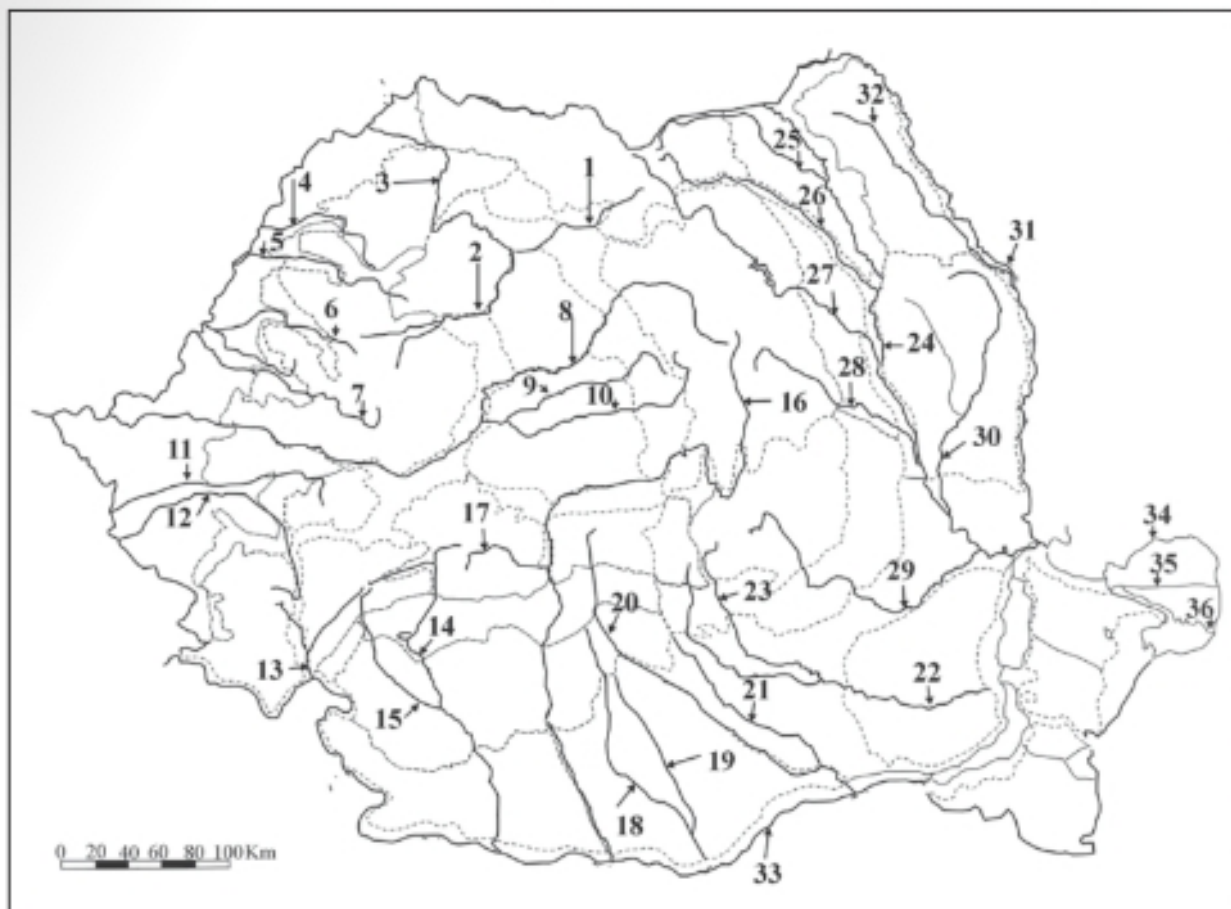
24-.....

2. Ordonăți descrescător principalele fluviu ale Europei, scriind cifrele de la 1 (cel mai lung) la 5 (cel mai scurt) în căsuța corespunzătoare:

Ural	Volga	Dunăre	Rin	Nipru
------	-------	--------	-----	-------

HIDROGRAFIE. PRINCIPALELE RĂURI DE PE TERITORIUL ROMÂNIEI

1. Pe harta de mai jos sunt marcate, cu numere, principalele râuri de pe teritoriul României și Dunărea.



Scrieți, în tabelele de mai jos, numele râurilor identificate pe hartă:

Grupa vestică (râuri care se varsă în Tisa, pe teritoriul Ungariei)

Râul	Afluentul	Afluentul
3-	1-	2-
4-		
5-		
6-		
7-		
8-	9-	10-

Grupa sudică (râuri care se varsă direct în Dunăre, pe teritoriul României)

Râul	Afluentul
14-	15-
16-	17-
18-	19-
20-	21-
22-	23-

Grupa de sud-vest

11-
12-
13-

Grupa estică

Râul	Afluentul
24-	25-
	26-
	27-
	28-
	29-
	30-
31-	32-

2. Apa curgătoare marcată pe hartă cu numărul 33, formează la vărsarea în Marea Neagră o deltă, brațele principale fiind: 34- și 35 - și 36-

HARTA POLITICĂ A EUROPEI

1. Scrieți în tabel denumirile capitalelor statelor europene, marcate cu litere pe harta de mai jos.



Nr.	Statul	Capitala	Nr.	Statul	Capitala	Nr.	Statul	Capitala
1	Estonia		17	Islanda		33	San Marino	
2	Letonia		18	Norvegia		34	Vatican	
3	Lituania		19	Suedia		35	Malta	
4	Belarus		20	Finlanda		36	Slovenia	
5	Ucraina		21	Danemarca		37	Croația	
6	Republica Moldova		22	Irlanda		38	Bosnia -Herțegovina	
7	Federația Rusă		23	Marea Britanie		39	Serbia	
8	Germania		24	Franța		40	Munte negru	
9	Polonia		25	Belgia		41	Macedonia	
10	Cehia		26	Olanda		42	Albania	
11	Slovacia		27	Luxemburg		43	Grecia	
12	Elveția		28	Portugalia		44	Bulgaria	
13	Liechtenstein		29	Spania		45	Cipru	
14	Austria		30	Andorra		46	Turcia	
15	Ungaria		31	Monaco				
16	România		32	Italia				

2. Subliniați entitățile teritoriale dependente din Europa, selectând din lista celor prezentate mai jos: Svalbard, Jan Mayen, Insula Man, Réunion, Gibraltar, Groenlanda, Insulele Feroe, Insulele Normande, Ceuta.