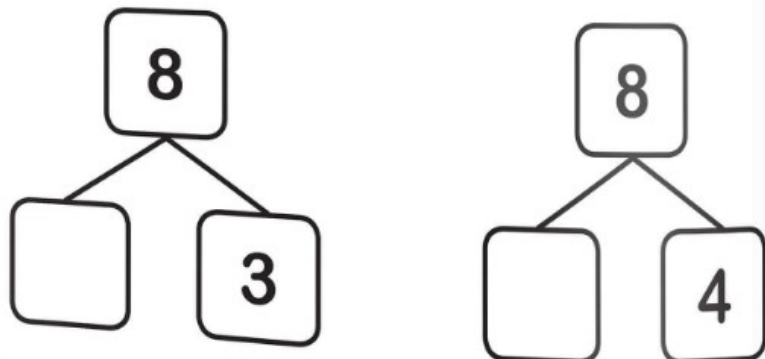
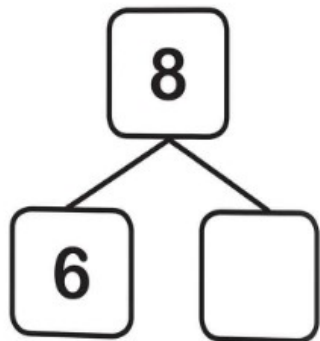
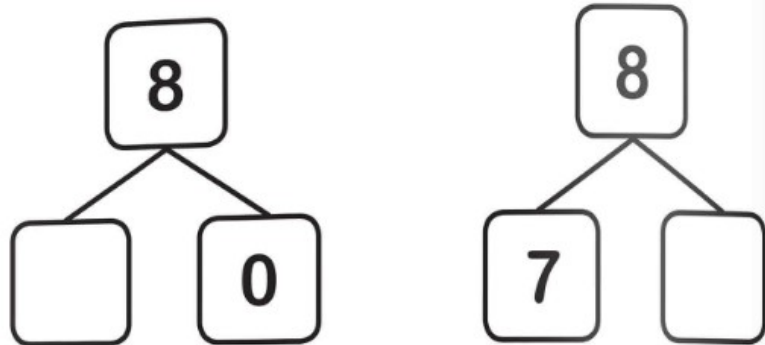


DESCOMPUNE-L PE 8.




UNEȘTE FIECARE SCĂDERE DE REZULTATUL CORESPUNZĂTOR.

$15 - 10 \quad 17 - 14 \quad 24 - 6$

$27 - 13 \quad 16 - 10$

$12 - 8$



REZOLVĂ SCĂDERILE ȘI SCRIE REZULTATELE  
ÎN CASETE.

$24 - 16$	$19 - 13$	$25 - 18$	$22 - 7$
<input type="text"/>	<input type="text"/>	<input type="text"/>	<input type="text"/>

$16 - 9$	$13 - 10$	$14 - 6$	$20 - 14$
<input type="text"/>	<input type="text"/>	<input type="text"/>	<input type="text"/>

$27 - 13$	$29 - 24$	$24 - 21$	$17 - 11$
<input type="text"/>	<input type="text"/>	<input type="text"/>	<input type="text"/>

UNEȘTE FIECARE SCĂDERE DE REZULTATUL  
CORESPUNZĂTOR.

$30 - 14$     $24 - 13$     $27 - 10$

$15 - 10$     $22 - 12$

$26 - 20$

11	10	17
5	16	6

REZOLVĂ SCĂDERILE ȘI SCRIE REZULTATELE  
ÎN CASETE.

$15 - 11$	$31 - 24$	$17 - 12$	$24 - 16$
<input type="text"/>	<input type="text"/>	<input type="text"/>	<input type="text"/>

$13 - 8$	$24 - 13$	$28 - 20$	$19 - 14$
<input type="text"/>	<input type="text"/>	<input type="text"/>	<input type="text"/>

$15 - 9$	$23 - 18$	$26 - 10$	$15 - 13$
<input type="text"/>	<input type="text"/>	<input type="text"/>	<input type="text"/>

REZOLVĂ SCĂDERILE ȘI SCRIE REZULTATELE  
ÎN CASETE.

$25 - 16$	$24 - 6$	$23 - 18$	$31 - 15$
<input type="text"/>	<input type="text"/>	<input type="text"/>	<input type="text"/>

$27 - 10$	$16 - 11$	$24 - 7$	$30 - 18$
<input type="text"/>	<input type="text"/>	<input type="text"/>	<input type="text"/>

$22 - 5$	$10 - 7$	$14 - 5$	$27 - 13$
<input type="text"/>	<input type="text"/>	<input type="text"/>	<input type="text"/>