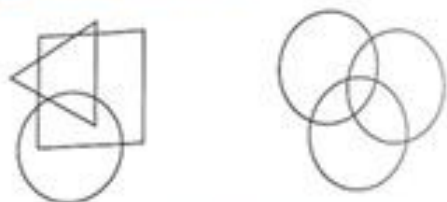


9. Colorează:

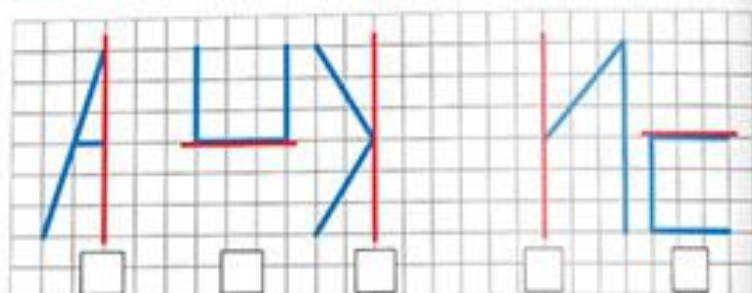
- A** zona interioară cercului și pătratului, dar exterioră triunghiului;  
**B** zona interioară celor trei cercuri.




**COMPETENȚE:**

- Sesizarea intuitivă a simetriei la formele geometrice plane, la obiecte și ființe din mediul apropiat;
- Realizarea de desene simple respectând o axă de simetrie dată.

- A** 10. Identifică literele obținute după ce ai completat simetria fiecărei părți prezentate:

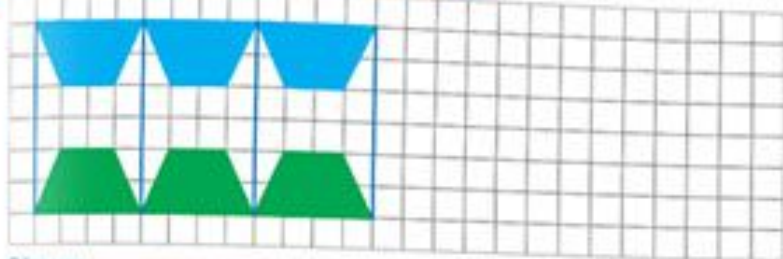


- A** 11. Fiecare dintre desenele de mai jos are o singură axă de simetrie. Colorează-o!



54

- A** 12. Continuă desenul, apoi colorează.  
**B** Mozaicul realizat are o axă de simetrie sau două?



Răspuns: .....

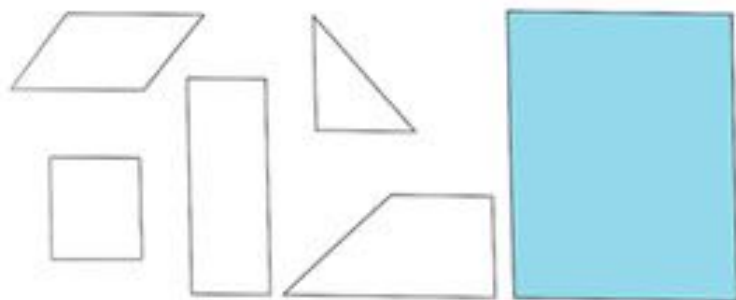
**COMPETENȚĂ:**

- Jocuri de construcție cu obiecte cu formă geometrică, din diferite materiale.

- G** 13. Utilizează piesele TANGRAM de la finalul cărții pentru a realiza bărcuța:



- G** 14. „Acoperă” dreptunghiul din dreapta cu piesele din stânga:



55

**COMPETENȚĂ:**

Aflarea unui număr / a unor numere respectând anumite condiții.

- A** 15. Scrie în ordine descrescătoare trei numere alcătuite numai din sute:

- B** Scrie trei numere alcătuite din zeci de zeci.

16. Citește numerele 327, 405, 900, 570, 30.

- A** De câte ori ai citit cuvântul „zero”?

- B** Scrie cu cifre un număr pe care, dacă-l citești, pronunți cuvântul „zero”?

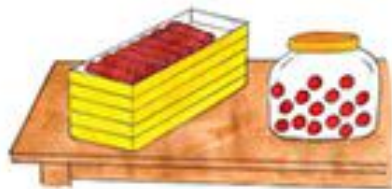
17. Observă cu atenție!



- A** A câta-i penultima bilă din reprezentare?

- C** Ce ar avea în comun aceste bile dacă ar fi toate numerotate?

- B** 18. Într-un tub sunt 10 drajeuri. Într-o cutie sunt 10 tuburi. Pe teșgeaua unei cofetării se află 4 cutii pline cu tuburi, o cutie cu 7 tuburi și un bocan cu 15 drajeuri. Câte drajeuri sunt în total?





## 1.2. Compararea numerelor în concentrul 0-1000

**COMPETENȚĂ:**

- Compararea numărului de obiecte din două grupuri, prin punerea în corespondență „unu la unu” a obiectelor din cele două grupuri.

1. Care sunt mai multe?



- A** Sunt mai multe

- B** Sunt mai multe

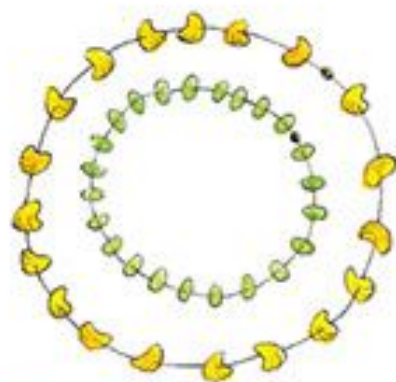
- A** 2. Compară și completează fraza:



Lavinia



Mihaela



Pe șiragul Laviniei sunt mai  scoici decât pe șiragul Mihaelei.