

Numără fructele, apoi unește-le de bulinele și de numerele corespunzătoare.



		5
		7
		3
		6
		10

Numără obiectele, apoi unește-le de bulinele și de numerele corespunzătoare.



		12
		15
		11
		13
		14


Adună biscuiții, apoi scrie rezultatul în căsuță.



$$11 + 5 = \square$$



$$12 + 1 = \square$$



$$13 + 4 = \square$$



$$16 + 2 = \square$$




$$11 + 3 = \square$$




$$13 + 5 = \square$$


Adună caramellele, apoi scrie rezultatul în căsuță.



$$14 + 2 = \square$$




$$13 + 5 = \square$$



$$12 + 5 = \square$$



$$11 + 4 = \square$$



$$15 + 3 = \square$$



$$16 + 2 = \square$$