

Manuela Dinescu

TESTE PENTRU EVALUAREA NAȚIONALĂ

CLASA A IV-A

LIMBA ȘI LITERATURA ROMÂNĂ

MATEMATICĂ





➔ *Citește cu atenție textul de mai jos.*

Trei sâmburi de pepene poveste populară tadjică

A fost odată un om sărac. Avea și el un petic de pământ, pe care-l muncea din zori și până-n noapte.

Într-o primăvară, în timp ce-și ara pământul, găsi o barză care avea o aripă ruptă. Luă barza și o duse acasă, unde o obloji și o îngriji până când se vindecă.

Atunci o lăsă să-și ia zborul, urându-i viață lungă și fără necazuri.

Cum se crăpă de ziuă, omul se duse pe câmp. Deodată zări barza. Ea se roti de câteva ori deasupra lui și-i aruncă la picioare trei semințe de pepene.

Omul luă semințele și le puse în pământ. Peste câteva zile, semințele încolțiră, apoi apărură frunzele, florile și în sfârșit niște pepeni uriași cum nu s-au mai pomenit prin părțile acelea.

— Nu se cade să mă înfrupt singur din mândrețea asta de pepeni, gândi omul și-și pofti neamurile și prietenii care și ei erau săraci. Aceștia veniră îmbrăcați în haine modeste și rămaseră uimiți văzând pepenii aceia uriași.

Când tăiară un pepene, găsiră în loc de miez, bani de aur. Când îl despicară pe-al doilea, căzură și din el galbeni. Cu al treilea se întâmplă la fel.

Omul împărți aurul cu oaspeții și traiul tuturor deveni îndestulat.

Un bogătan lacom, dintr-un sat vecin, prinse de veste și veni la omul nostru să-l descoasă: cum de dăduse peste el un asemenea noroc? Acesta îi spuse toată povestea, fără să ascundă nimic.

Atunci bogătanul s-a dus să caute barza. O văzu umblând agale pe țarină, cum îi era obiceiul. Se luă tiptil după ea și o lovi cu ciomagul.

Cu un strigăt de durere, barza căzu la pământ. Bogătanul o înșfăcă și o duse acasă. Odată ajuns, îi înfășă piciorul lovit și porunci tuturor să aibă grijă de pasărea rănită.

Peste câteva zile, barza se înzdrăveni și-și luă zborul. Ros de nerăbdare, bogătanul se ducea în fiecare dimineață pe câmp, doar-doar o să vină barza și o să-i aducă și lui semințe fermecate.

În sfârșit veni barza și, într-adevăr, îi aruncă mult așteptatele semințe. Bogătanul le puse imediat în pământ și după un timp ieșiră din ele trei pepeni uriași.

Bogătanul își pofti toate neamurile – nu ca să le facă parte, dar ca să vadă cum crapă de invidie.

Veniră oaspeții gătiți cu straie scumpe și tare se mai minunară văzând pepenii aceia uriași.

Primul pepene plesni de copt ce era, de cum îl atinseră cu cuțitul și din el ieși un roi de viespi. Oaspeții se speriară, dar bogătanul porunci slugilor să taie și ceilalți doi pepeni.

— Fără doar și poate că acolo e comoara! strigă el.

Zadarnică speranță, căci în afară de viespi nu găsiră nimic.

Bogătanul și oaspeții lui o luară la sănătoasa, țipând și ocărând, urmăriți de viespile stârnite, care îi înțepau unde se nimerea, de li se făcură tuturor nasurile... cât pepenii.

➔ *Rezolvă cerințele date.*

1 *Încercuiește litera corespunzătoare răspunsului corect.*

Ce a găsit țăranul pe ogorul său?

A. un pui de iepure;

B. un cuib de prepeliță;

C. o barză cu aripa ruptă;

D. un coș plin cu aur.

2 *Încercuiește litera corespunzătoare răspunsului corect.*

Ce a făcut bărbatul descoperind pasărea rănită?

A. A alungat-o de pe ogorul său.

B. A continuat să are nepăsător ogorul.

C. A luat-o acasă și a îngrijit-o.

D. A dat-o în grija unui vecin.

3 *Încercuiește litera corespunzătoare răspunsului corect.*

Ce i-a dăruit barza binefăcătorului său, după ce s-a vindecat?

A. trei semințe de pepene;

B. o pană fermecată;

C. câteva ouă;

D. un plug nou.

4 Crezi că țăranul a fost dezamăgit de răsplata primită?

Alege și argumentează răspunsul tău.

Da, pentru că _____

Nu, deoarece _____

5 *Încercuiește litera corespunzătoare răspunsului care indică ordinea corectă a evenimentelor, așa cum s-au petrecut ele.*

1. Bogătanul caută barza și o rănește intenționat.

2. Un țăran găsește o barză rănită pe ogor.

3. Omul cel bogat și prietenii lui găsesc în cei trei pepeni roiuri de viespi.

4. Omul sărac îngrijește barza și o ajută să se vindece.

5. Bogătanul îngrijește și el barza și primește de la aceasta trei semințe din care cresc trei pepeni.

6. Din semințele dăruite de barză țăranului milos cresc trei pepeni fermecați, plini cu aur.

A. 1; 2; 3; 4; 5; 6;

B. 2; 4; 6; 1; 5; 3;

C. 2; 3; 5; 1; 4; 6;

D. 5; 2; 1; 3; 4; 6.

6. Semințele dăruite de barză fiecăruia dintre cei doi se dovedesc a fi niște semințe fermecate. *Scrie mai jos, pe baza textului citit, trei argumente care susțin această afirmație.*

1. _____

2. _____

3. _____

7. *Completează în tabel deosebirile dintre țăranul cel sărac și bogătan.*

Țăranul sărac	Bogătanul
– este bun și milos (îngrijește pasărea rănită)	
– este modest (nu cere nimic în schimb)	
– este darnic (nu vrea să mănânce singur pepenii și dăruiește din banii săi de aur prietenilor și rudelor)	
– este sincer și încrezător (îi povestește bogătanului întâmplarea, fără să ascundă nimic)	

8. *Citește cu atenție enunțurile date.*

Scrie A în caseta din dreptul enunțului pe care îl consideri adevărat și F în caseta din dreptul enunțului pe care îl consideri fals.

Omul împărți aurul cu oaspeții lui și traiul tuturor deveni îndestulat.

Un bogătan lacom dintr-un sat vecin prinse de veste și veni la omul nostru să-l felicite.

9. *Încercuiește litera corespunzătoare răspunsului corect.*

De ce a lovit bogătanul barza cu ciomagul?

A. A vrut s-o omoare.

B. Voia să aibă motiv s-o îngrijească pentru a primi răsplată.

C. Dorea să se răzbune pentru că l-a îmbogățit pe țăran.

D. Voia s-o alunge cât mai departe.

10 Încercuiește litera corespunzătoare răspunsului corect.

Cu ce intenții și-a invitat bogătanul neamurile atunci când s-a hotărât să taie pepenii copti?

- A. Dorea să le dăruiască din comoara pe care o aștepta.
- B. Voia să-i vadă cum crapă de invidie.
- C. Dorea să le arate cum este răsplătită bunătatea.
- D. Voia să-l ajute la tăierea pepenilor.

**11 Crezi că barza din această poveste este una obișnuită sau o pasăre fermecată? Argumentează-ți răspunsul.**

12 Încercuiește litera corespunzătoare răspunsului corect.

Ce au făcut viespile care au ieșit din pepenii bogătanului?

- A. Au zburat departe de acest loc.
- B. Și-au căutat un alt adăpost.
- C. I-au înțepat pe bogătan și pe oaspeții lui.
- D. Au început să caute hrană.

13 Cu ce semănau nasurile celor fugăriți de către roiul de viespi? Scrie răspunsul tău pe rândurile de mai jos.

14 Încercuiește litera corespunzătoare răspunsului corect.

Care dintre proverbele de mai jos se potrivește acestei întâmplări?

- A. Cu răbdarea treci și marea.
- B. Munca este brățară de aur.
- C. Leneșul mai mult aleargă.
- D. Lăcomia strică omenia.

15 Scrie o compunere cu titlul „După faptă și răsplată“.

În compunerea ta vei respecta următoarele cerințe:


- vei prezenta o întâmplare care să ilustreze acest proverb;
- vei redacta compunerea în 10 – 12 rânduri;
- vei avea grijă să scrii corect cuvintele, să respecti regulile de ortografie și punctuație și să așezi corect textul în pagină.



Încercuiește litera corespunzătoare variantei corecte de răspuns.

- A. cu 226 °C;
- B. cu 606 °C;
- C. cu 514 °C;
- D. cu 315 °C.

16 Cu ce corp geometric seamănă Soarele și planetele din Sistemul Solar?

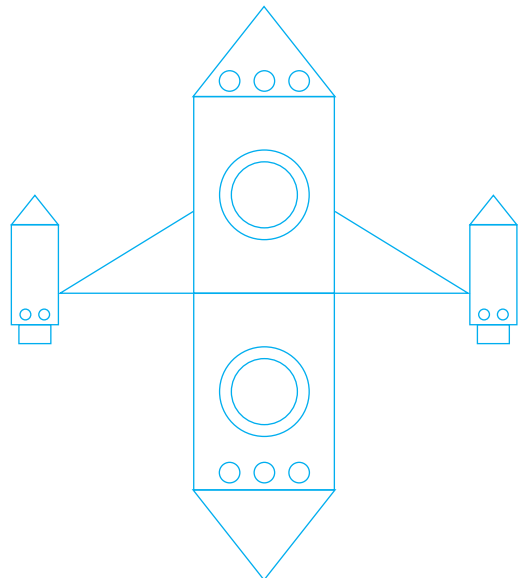


Răspuns: _____

17 Elevii de la cercul „Magia Universului“ au desenat o rachetă din figuri geometrice.

Scrive, în tabelul de mai jos, numărul figurilor geometrice folosite.

cercuri	
triunghiuri	
pătrate	
dreptunghiuri	



18 Câte zile a petrecut în spațiu o echipă de cosmonauți care a fost în misiune de la 1 februarie până la 1 iunie a aceluiași an (bisect)?

Încercuiește litera corespunzătoare variantei corecte de răspuns.

- A. 144 de zile;
- B. 133 de zile;
- C. 121 de zile;
- D. 120 de zile.

III. ORGANIZAREA DATELOR

19 O rotație completă a Pământului în jurul axei sale durează 24 de ore și determină alternanța zi/noapte. Observă datele din tabel și completează enunțurile:

	21 MARTIE	21 IUNIE	21 SEPTEMBRIE	21 DECEMBRIE
ZIUA	12 h	16 h	12 h	8 h
NOAPTEA	12 h	8 h	12 h	16 h

Cea mai lungă zi din an este pe data de: _____






Cea mai lungă noapte din an este pe data de: _____

Datele când ziua este egală cu noaptea sunt: _____

Data când noaptea este de 2 ori mai mare decât ziua este: _____

20 Rachetele vor decola în ordinea crescătoare a numărului lor.

Scrie mai jos numerele corespunzătoare acestora și coordonatele lor.

	A	B	C	D	E
5		 590			
4	 292				
3				 630	
2			 831		
1				 724	

Număr	Coordonate

